

2024年10月27日云南曲靖事业单参考解析

考生回忆版

第一部分 1-20 常识 20 题×1.32 分

第二部分 30-50 言语理解 30 题×1.54

第三部分 51-55 数量关系 5 题×1.78

第四部分 判断推理

56-65 图形推理 10×1.6 66-70 定义判断 5×1.56

71-80 类比推理 10×1.24

81-82 逻辑判断 2×1.6

83-85 综合判断推理 3×1.6

第五部分 资料分析 15×1.62

第一部分 常识

1.24年9月，习近平回信勉励中国一众产业工人代表，坚守技能报国初心弘扬劳模精神、劳动精神、工匠精神。工匠精神是指（ ）

- 1.爱岗敬业，争创一流
- 2.艰苦奋斗，勇于创新
- 3.淡泊名利，甘于奉献
- 4.诚实劳动，追求极致

A123 B234 C124 D134

2.2024年9月14日，全国人民代表大会成立70周年…。关于人民代表大会制度，符合的有几项（ ）

A.人民代表大会制度是中国共产党领导中国人民艰辛探索长期奋斗的成果

B.是从中国土壤中生长起来的全新政治制度

C.是人类政治制度史上的伟大创造

D.为创造经济快速发展和社会长期稳定两大奇迹提供了重要制度保障

A1 B2 C3 D4

3.不属于党的自我革命实践问题的是（ ）

A.解决大党独有难题为主攻方向

B.以健全全面从严治党体系为有效途径

C.以锻造坚强组织、建设过硬队伍为重要着力点

D.依法治国和以德治国相结合为重要动力

4.2024年8月，国务院、中央军委公布新修订的《军人抚恤优待条例》，条例在于

1.是为了保障国家对军人的抚恤优待

2.激励军人保卫祖国、建设祖国的献身精神

3.加强国防和军队建设

4.规范现役军人的安置工作

A.123 B.234

C.124 D.134

5.关于中华人民共和国宪法，错误的是（ ）

A.一切法律、行政法规和地方性法规都不得同宪法相抵触

B.全国人民代表大会代表由全国人民代表大会常务委员会主持选举

C.任何组织或者个人都不得转让土地使用权

D.地方各级人民政府是地方各级国家权力机关的执行机关，是地方各级国家行政机关。

6.下列行为人不负刑事责任的是()

- A.十二周岁的李某和同学玩闹意外推到致其骨折
- B.十六周岁赵某因为家里矛盾，烧自己家房屋，无人伤亡
- C.十八周岁王某，网上发布假信息，骗取 5 万元
- D.二十四周岁张某，醉酒驾驶机动车，致人重伤

7.下列不符合《政府信息公开条例》的是 ()

- A.信息公开主管部门应当对行政机关的信息公开人员定期培训
- B.行政机关公开政府信息采取按需公开和依法申请方式
- C.政府信息公开目录包括政府信息的索引、名称、内容概述、生成日期等内容
- D.对涉及公众利益调整、需要公众广泛知晓的政府信息，行政机关应当主动公开

8.1.企业为减少废气排放处理费，直接排放未达标的废气

2.部分商家在食品中非法添加有害化学物质来降低成本

3.某公司通过虚假广告宣传误导消费，进行不正当竞争

上述市场行为体现市场经济的 ()

- A. 自发性
- B. 滞后性
- C. 盲目性
- D. 竞争性

9.零工经济是共享经济的重要组成部分...关于零工经济，错误的是 ()

- A.提供灵活就业机会，缓解就业压力
- B.将传统企业——员工模式转为个人——平台模式
- C.完全取代传统全职工作**
- D.兴起与技术进步和互联网快速发展相关

10.下列诗词先后顺序是（ ）

- 1.群燕辞归鹄南翔，念君客游思断肠
- 2.乘骐骥以驰骋兮，来吾道夫先路
- 3.江南无所有，聊赠一枝春
- 4.故国神游，多情应笑我，早生华发

A.2134

B.2314

C.1234

D.2413

11.下列描述是指哪部文献

- 1....最早的资本主义纲领
- 2.反映先进中国人向西方寻求真理，探索救国的愿望
- 3.政治上以法治国，经济上鼓励发展工商业，奖励技术发明

A.天朝田亩制度

B.南社从刻

C.资政新篇

D.变法通议

12.关于对联，不正确的是（ ）

- A.骈文与律诗是其两大直接源头
- B.标准楹联本质特征是对仗
- C.起源于秦朝，古称桃符
- D.语言上既是韵文又是散文

13.下列历史表述有误的是

- A.罢黜百家，独尊儒术体现了儒家思想兼容和发展的特性，是与时俱进的思想
- B.海上丝绸之路开始于唐朝，成为东西方贸易、文化的重要通道
- C.秦始皇统一六国后，成为中国历史上第一个中央集权制国家
- D.1911年辛亥革命推翻清朝统治，建立中华民国，成为亚洲第一个民主共和国

14.关于我国国情，说法错误的是

- A.我国将所有自然保护地体系划入生态红线
- B.我国粮食产量人均占有量稳居世界平均水平上
- C.我国将保障妇女权益纳入法律法规，上升为国意，内化为社会行为规范
- D.我国对文物保护实行属地管理，分级负责的行政管理体制

15.22年9月柴达木盆地发现黏土型锂矿...关于柴达木盆地，正确的是（ ）

- A.高原型盆地，四大盆地里面最高
- B.处于天山、昆仑山、和阿尔金山之间
- C.地貌呈环状分布，边缘是山地连接的砾石戈壁，中心是大沙漠

D.著名的红色盆地，被誉为紫色盆地

16.核磁共振成像是新型医学诊断工具，但是也有危害...下列人群不适宜使用核磁共振成像诊断的是（ ）

A.颅脑先天发育畸形

B.椎间盘病变

C.安装心脏起搏器

D.胸腔与胸壁有肿瘤

17.关于雪的说法有误的是

A.水在空中凝结再落下的自然现象

B.亚热带和热带低海拔地区经常下

C.雪晶主要在云中凝华增大

D.冰的分子六角形最多，所以雪花也是六角形为主

18、关于北斗七星，说法错误的是

A 古人曾用黄昏时分北斗勺柄指向判断气候

B 北斗七星是大熊座的一部分，位于大熊座尾部

C 中国古代把恒心天空分为三恒二十八宿，北斗为紫薇恒星官

D 北斗在天空中样子不断变化的，是恒星自行所导致

19、.....神州十八号说法错误的是

A 神州载人航天飞船是中国自行研制，用于往返天地运输，具有完全自主知识产权和鲜明中国特色

B 搭载长征二号 F 遥十八运载火箭具有其他火箭没有的故障检测系统和逃逸逃生系统

C 在轨期间，景海鹏，朱杨柱，桂海潮三人协同完成任务

D 神州十八号是我国第二艘实施径向对接的载人飞船

20、符合安全用电原则的是

A 雷电天气使用太阳能电热器洗澡

B 家里只有二脚插班，用三脚插头改两脚插头使用

C 用湿抹布搽正在运行的电热水壶

D 定期检查家中电线电路，更换老化电路

.....

21、群众维权经常拨打 12135，虽然渠道通畅，但是一个简单的问题往往需要经多道程序才能解决。消费维权服务站的设立，让一些简单纠纷不出消费场所就能得到快速处理实现了消费维权的_____

A 来之不易

B 举手之劳

C 一步之遥

D 触手可及

22、一到晚上，在公园跑步的人就变多，因为跑步能有效减肥，但跑步容易刹不住车，不觉加大跑量，这就导致膝盖损伤，脚踝损伤的人（）

A 屈指可数

B 比比皆是

C 恒河沙数

D 寥寥无几

23、国务院发展研究中心相关报告显示，截至 2023 年，我国新能源汽车动力电池规范化回收率不足 25%。进一步加强行业规范，建立起完善的回收网络，是推动电池行业绿色发展的

()

A 未雨绸缪

B 燃眉之急

C 当务之急

D 不急之务

24、面对更加 () 的国内外环境，中国经济运行总体平稳、稳中有进，新质生产力稳步发展，民生保障扎实有力，防范化解重点领域风险取得积极进展，高质量发展扎实推进，社会大局保持稳定。

A 一触即发

B 井然有序

C 岌岌可危

D 错综复杂

25、通过对经典艺术作品的重新解读和演绎进行再创作，一直是 () 艺术家们所钟爱的艺术生产方式。借助经典作品所积淀的普适性文化母题、典型性艺术风格和表现手法进行创造性发展，不仅能为艺术创作带来新的活力和思考，更因让观赏者于似曾相识的文化经验中获得 () 的审美体验而受到大众的追捧。

A 名扬中外 不出所料

B 远近闻名 情理之中

C 古今中外 意料之外

D 学贯中西 始料未及

26、人才是创新的根基，加强基础研究 () 要靠高水平人才。必须 () 高精尖缺导向坚

持高水平人才引进工作“一把手工程”。

A 总而言之 关注

B 老调重弹 突显

C 归根结底 突出

D 重中之重 保持

27、学先进，就要争做先进，像先进模范那样去（ ）。时常对着榜样“照镜子”，摆问题、找差距、明方向，才能（ ）提高党性修养、思想境界、能力水平，从而学出成果、学成榜样。

A 奋斗 不断

B 拼搏 接续

C 斗争 接连

D 奋战 不停

28、乐于助人是中华民族的传统美德，助人的形式和渠道理应（ ）。据统计，仅2023年，全国各家个人求助网络服务平台累计筹款金额超过百亿元，救助案例数以万计，切实（ ）了众多家庭的经济困境。

A 疾风劲草 减轻

B 与时俱进 缓解

C 日臻完善 舒缓

D 大刀阔斧 缓和

29、从独立自主研制“两弹一星”，到向宇宙深处进发，从向贫困堡垒发起总攻，到推进乡村全面振兴，共和国壮阔征途上，留下一串串（ ）的足迹。无论是把深水区改革继续推向深入，还是实现高水平科技自立自强，无不需要党员、干部（ ）、动真碰硬。

A 勇往直前 见义勇为

B 一往无前 挺身而出

C 奋不顾身 自告奋勇

D 激流勇进 袖手旁观

30.

31.

32.

49.①如果硬要找出比蟑螂还能熬的动物，大概就是水熊虫了

②利用这种技巧，它们能够扛过缺氧、太空的真空，以及接近绝对零度的低温

③科学家甚至曾经解冻过一只 30 年前的水熊虫，它不仅在解冻后的第一天就出现了微弱的运动，最终还成功产下了十几只后代

④对这些拥有超绝生存能力的生物来说，没有食物、极端缺水几乎算不上什么生存挑战

⑤在恶劣的条件下，水熊虫会收起附肢，把自己团成一个球，然后将机体的代谢速率降到接近于零，进入一种类似冬眠的状态

⑥人们经常说，如果世界末日真的到来，那么幸存下来的将会是蟑螂

将以上 6 个句子重新排序，语序正确的一项是 ()。

A.⑤①①⑤②③

B.⑤①②⑤③④

C.①②③③⑤④

D.①④⑤③③②

50.①触摸这一行为含有温暖而治愈的力量，虽然每个人都能理解，但一直以来却缺乏科学证据

②触摸对人类极为重要——这是新生儿发育的首个感觉，也是我们和世界互动的最直接方式

③轻柔的触摸、放松的按摩或坚定的拥抱 - - 所有这些类型的人际接触都可以减轻心理健康风险因素，而且对身体健康也有正向作用

④《自然 - 人类行为》杂志上发表的一篇文章，提供了人们为什么特别喜欢摸摸的证据：来自人类和动物的身体触摸可以减少成人和儿童的疼痛、抑郁感和焦虑

⑤这项研究认为，触摸对生理和心理健康都有益，对所有年龄、所有健康状况的个体都成立

⑥看到可爱的孩子就想捏捏脸，看到可爱的猫猫就想摸摸头，这种对触摸的渴望似乎写在人类最基本的行为模式中

将以上 6 个句子重新排序，语序正确的一项是（ ）。

A.①④③③②⑤

B.①④③②⑤⑤

C.②⑤④①③③

D.②③①④③⑤

第三部分 数量关系

51. 超市以每斤 4 元的价格采购了 300 公斤水蜜桃，从中选出一部分外观漂亮的水蜜桃打包成礼盒，每个礼盒需包装费 1 元，内有 3 斤水蜜桃，售价 30 元；剩余部分按照 50% 的利润率定价销售。全部售完后，共获得 2300 元利润。则共卖了多少个水蜜桃礼盒？（ ）

A.80

B.90

C.100

D.110

52. 某区公益组织在劳动节当天为本区域的一线劳动人员发放礼品（在发放礼品前已经有人开始排队），若安排 5 名公益人员发放礼品，那么发放第 60 分钟时恰好无人在排队，若安

排 4 名公益人员发放礼品，那么发放第 80 分钟时恰好无人在排队。已知每分钟前来排队领礼品的人数固定，若在保证发放第 30 分钟时无人在排队，则最少需要安排多少名公益人员分发？（礼品数量足够多）（ ）

A.10

B.9

C.8

D.7

53.一项工作，甲、乙两人连续工作 10 天可分别完成总量的 25%、20%。9 月 1 日两人开始合作，甲工作 2 天休息 1 天，乙工作 4 天休息 2 天，则该项工作将在哪天完成？（ ）

A.10 月 3 日

B.10 月 4 日

C.10 月 5 日

D.10 月 6 日

54. 某学会举办了化学、数学、物理三科竞赛，共有 168 名参赛选手获奖，其中只有一科获奖的人数是至少两科获奖人数的 2 倍，只有两科获奖的人数比三科全部获奖的人数多 2 倍。

每获奖一科即可得到一枚奖牌，则该学会共需准备多少枚奖牌？（ ）

A.244

B.242

C. 240

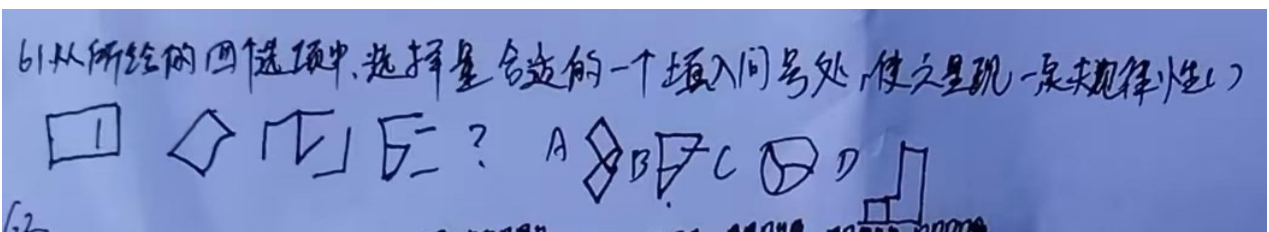

D.238

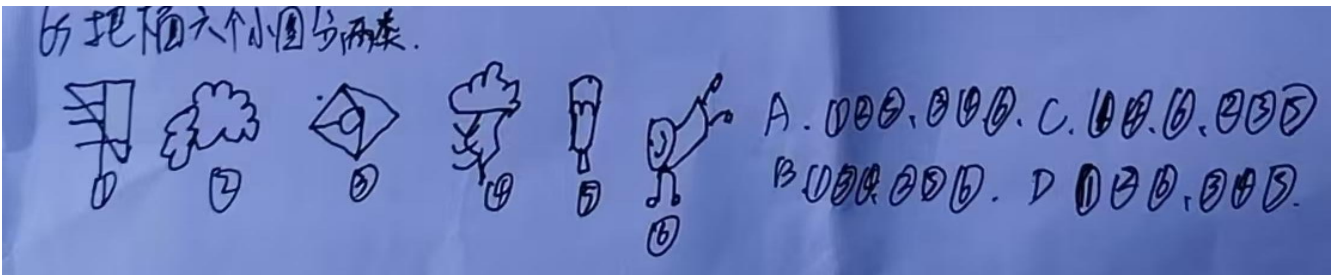
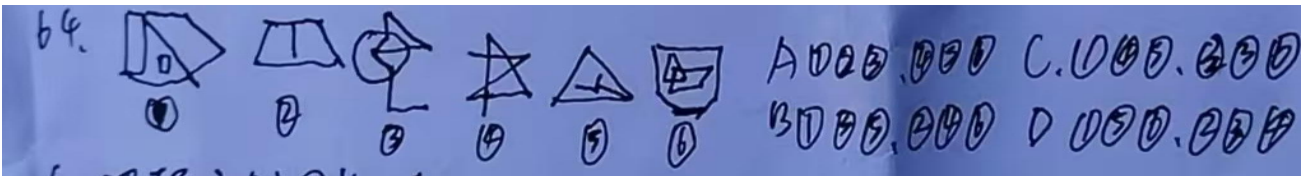
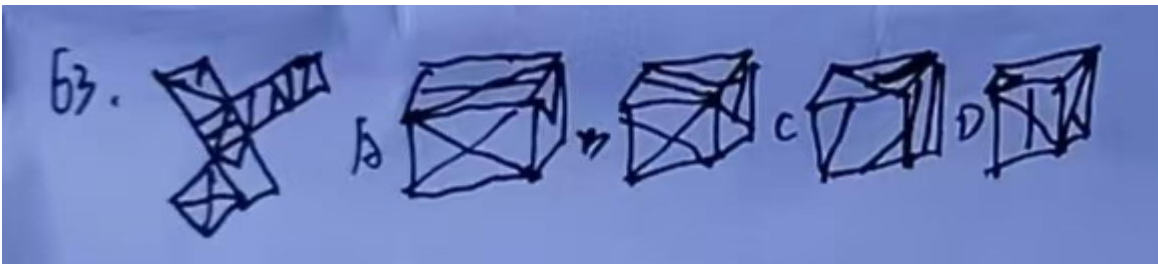
55. 某单位新引进的 6 位硕士应届毕业生均来自六所不同院校，分别交由 6 位老员工一对一指导。6 位老员工也分别毕业于这六所院校，则只有 1 位应届毕业生恰好分到同院校老员工的概率为多少？()

- A. 13/30
- B. 2/3
- C. 11/30
- D. 1/3

第四部分 判断推理

58. 从所给的四个选项中，选择最合适.....规律性的 ()。





66.工作下沉是指穿梭于各大写字楼之间的白领们不忍工作压力,辞职后转身投向大众意义上认为更辛苦的体力工作或不如原来的工作现象。下列符合工作下沉是()。

A.张某某大型厂公司的程序员,因对编程失去兴趣、辞职后转行成为一名自由职业者专注于网络文学写作

B.秦某在市中心的一家金融机构担任高级客户经理由于工作压力大,她决定辞职,辞职后她在一家小型农场开始务农生活

C.赵果是一名市场分析师,因工作压力大而辞职,辞职的决定去读研究生

D.赵某是一名资深平面设计师、因所在公司裁员而失业,经过一段时间后,在一家建筑公司找到了绘图员工作

67.潜在义务指结果取决于不确定未来事项的可能义务。也就是说,潜在义务最终是否转变为现时义务,由某些未来不确定事项的发生或不发生才能决定。

根据上述定义，下列属于潜在义务的是（ ）。

- A.小李的公司与客户签订了一份长期销售合同，合同规定在未来五年内每年向客户供应一定数量的产品
- B.小王在驾驶汽车时因违反交通规则被交警处罚，他需要在规定时间内缴纳罚款
- C.某家庭因贷款购买新车，每月需按时向银行偿还贷款本息，已签订贷款合同并明确还款计划
- D.某政府承诺在未来五年内，若经济指标达到预设水平，则将对特定行业进行税收减免

68.套套逻辑又名“问义反复”，本是文学上的一种假辞手法，即一句话的半句和另一半句，内容不同，但语义完全相同。在逻辑学上，套套逻辑指某一逻辑的“推论是其所涉及的概念义本身”。属于套套逻辑是（ ）

- A.所有已婚人士都是成年人，因为结婚需要达到法定年龄
- B.一个人如果符合公司招聘要求，那么他就是公司的招聘目标人选
- C.一个物体是透明的，如果它允许光线透过
- D.只有三角形圆形，才能被定义为三角形.....

71.改良:产品（ ）

- A.修筑:堤坝
- B.节能:减排
- C.人员:救助
- D.邮件:公告

72.地方财政:国家财政（ ）

A.机场上塔台:国防设施

B.网络营销:情感营销

C.分数:整数

D.喇叭:耳机

73. 佛塔：浮屠（ ）

A. 葡萄酒：高粱酒

B. 扬琴：打琴

C. 生物：历史

D. 空气炸锅：厨房电器

74. 雷击：火灾（ ）

A. 节水：干旱

B. 植树：防风固沙

C. 超载：沉船

D. 投资：盈利

75. 狐假虎威：恃势凌人（ ）

A. 沽名钓誉：实至名归

B. 秘而不宣：守口如瓶

C. 众星环极：引绳棋布

D. 箪食壶浆：箪瓢屡罄

76. 中国文学：儿童文学 ()

- A. 电子书：纸质书
- B. 卷发梳：化妆镜
- C. 学习灯：玻璃灯
- D. 牡丹花：棉花

77. 尼龙布：雨衣

- A. 古筝：陈醋
- B. 钢笔：蜀绣
- C. 伞柄：柳絮
- D. 原木浆：卫生纸

78. 明月出天山，苍茫云海间：祁连山 ()

- A. 江山留胜迹，我辈复登临：岷山
- B. 倏忽云烟化杳冥，峰峦随水入丹青：长白山
- C. 周流试登览，绝怪安可悉：泰山
- D. 只自云间惬蹇高，不肯轻低首：敬亭山

79. 饼干：干支 ()

- A. 平辈：平局
- B. 名字：名画
- C. 圆心：江心
- D. 音乐：奏乐

80.芥菜：梨果仙人掌：食用植物（ ）

A.置物架：牙刷：牙刷架

B. 三轮车：手推车：工具

C.东南：西北：方位

D.变色龙：乌贼：爬行动物

81.将 E、F、G、H、I、J、K 七幅拼图在货架上摆成一排（这一排只有这七幅拼图），要求满足以下条件：

(1)E 拼图、F 拼图、G 拼图、H 拼图互不相邻：

(2)J 拼图摆在 G 拼图的右边；(3)E 拼图和 I 拼图相邻；

(4)E 拼图和 G 拼图中间至少间隔两幅拼图。

如果 G 拼图摆在从右到左第三个位置，以下可能为真的是（）。

A.H 拼图摆在 G 拼图的左边

B.K 拼图摆在 E 拼图的左边

C.I 拼图摆在 E 拼图的左边

D.F 拼图摆在 E 拼图的左边

82.有四位学生文文、笔笔、思思、墨墨，他们每个人热衷于阅读文学、历史、科幻和哲学四类书籍中的一类，且每类书籍只有一人热衷于阅读。已知：

(1) 或者思思热衷于阅读文学书籍，或者文文热衷于阅读文学书籍；

(2) 如果文文热衷于阅读文学书籍，那么笔笔不热衷于阅读历史书籍；

(3) 或者文文不热衷于阅读哲学书籍，或者墨墨热衷于阅读科幻书籍；

(4) 如果笔笔不热衷于阅读历史书籍，那么墨墨不热衷于阅读科幻书籍。以下哪项如果为真，可以推出思思热衷于阅读文学书籍？()

- A. 文文热衷于阅读文学书籍
- B. 笔笔不热衷于阅读历史书籍
- C. 文文热衷于阅读哲学书籍
- D. 墨墨不热衷于阅读科幻书籍

五、综合判断推理。本类题共 3 小题，每小题 1.6 分，共 4.8 分。要求你根据所给材料，在每小题中选择一个最恰当的答案。根据以下材料，回答 83~85 题。

材料一：

瑜伽，近年来在全球范围内越来越受到人们的欢迎。它不仅仅是一种身体锻炼方式，更是一种全面促进身心健康的综合性方法。随着瑜伽在世界各地的普及，科学家们也对其进行了深入的研究，揭示了瑜伽对于改善人们生理和心理健康状况的诸多益处。研究发现定期练习瑜伽能够显著提高肌肉力量，尤其是核心肌群的力量，同时也能增加关节的灵活性。

材料二：

接受化疗或放疗的癌症病人大多会有癌因性疲惫，同时有睡眠障碍。研究团队在一项针对 321 名有睡眠障碍癌症病人的研究中发现，每周做 2 次 75 分钟轻中强度瑜伽，连续 4 周后，癌症病人的疲惫及睡眠质量有显著的改善。

材料三：

很多人在日常生活中都有随手放东西的习惯，事后又往往记不起来东西放在了哪里，为此还要花上半天苦苦忆。研究发现进行瑜伽一类的轻度运动有助于帮助人恢复丢失的记忆。

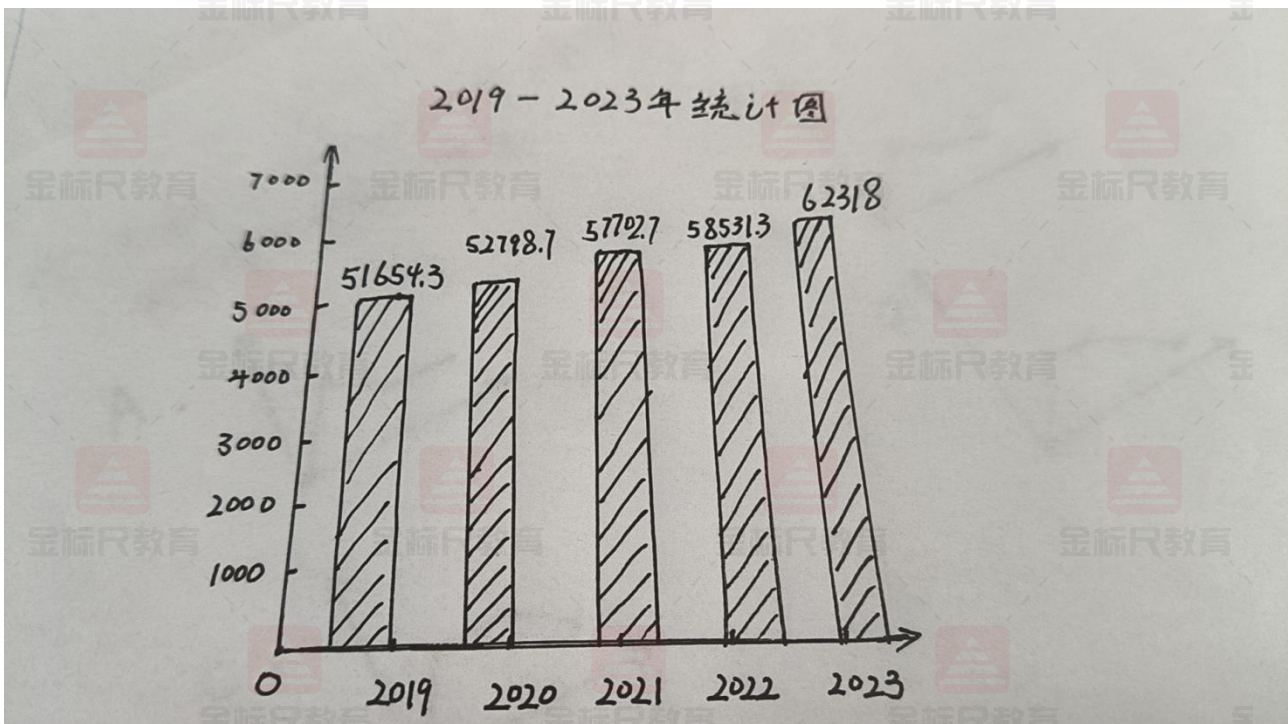
83. 以下哪项如果为真，最能解释材料一中的研究发现？()

- A. 瑜伽练习者往往更注重饮食平衡，有助于维持健康的体重和体态

第五部分 资料分析

2024年7月中国医药材及药品进口数量为3.67万吨,同比增长14.8%进口金额为43.7亿美元,同比上比6.7%2024年7月中国.....出口照为13万吨.同比增135%,出口全--20.5亿美元,同比增7.9%,2024年1-7月中国药材--进口数量为22.72万吨.进金额为301.2亿美元.虫口数量为90万吨.出口金额为143.63亿美元.

2024年7月中国火力发电产量为5749亿千瓦时,同时下降4.9%,2024年1—7月中国火力发电量累计为35813.9亿千瓦时,累计增长0.5%



2024年1-7月中国火力发电量产量大区分不均衡,其中华东地区产量占比32.81%,华北、西北、华南、华中、华南,华北地区占比为22.48%.15.26%.10.24%,8.34%.6.33%.4.54%86.2023.7中国火力发电量产是约为()亿千瓦时。

- A.6015.22
- B.6025.22
- C.6035.22
- D.6045.22

87.2023 上半年中国火力发电累计产量占 2023 中国发电量年产里的比重的为()

A.45.5%

B.47.5%

C.49.5%

D.51.5%

88.2019-2023、中国火力发电整年产星年均止增长率约为 ()

A4.8%.B5.8.C.6.8%.D7.8%

89.2020-2023.中国火力发电量同比增速由快到慢排列()

A.2021.2023.2020, 2022.

B2021.2023.2022.2020.

C.2021.2020.2023.2022.

D2021.2020.2022.2023

90.根据以上材料,下面错误的是()

A.2024 年上年中国火力发电量累计产量比 2023 年上半年中国火力发电累计产量高 400 亿千瓦时以上

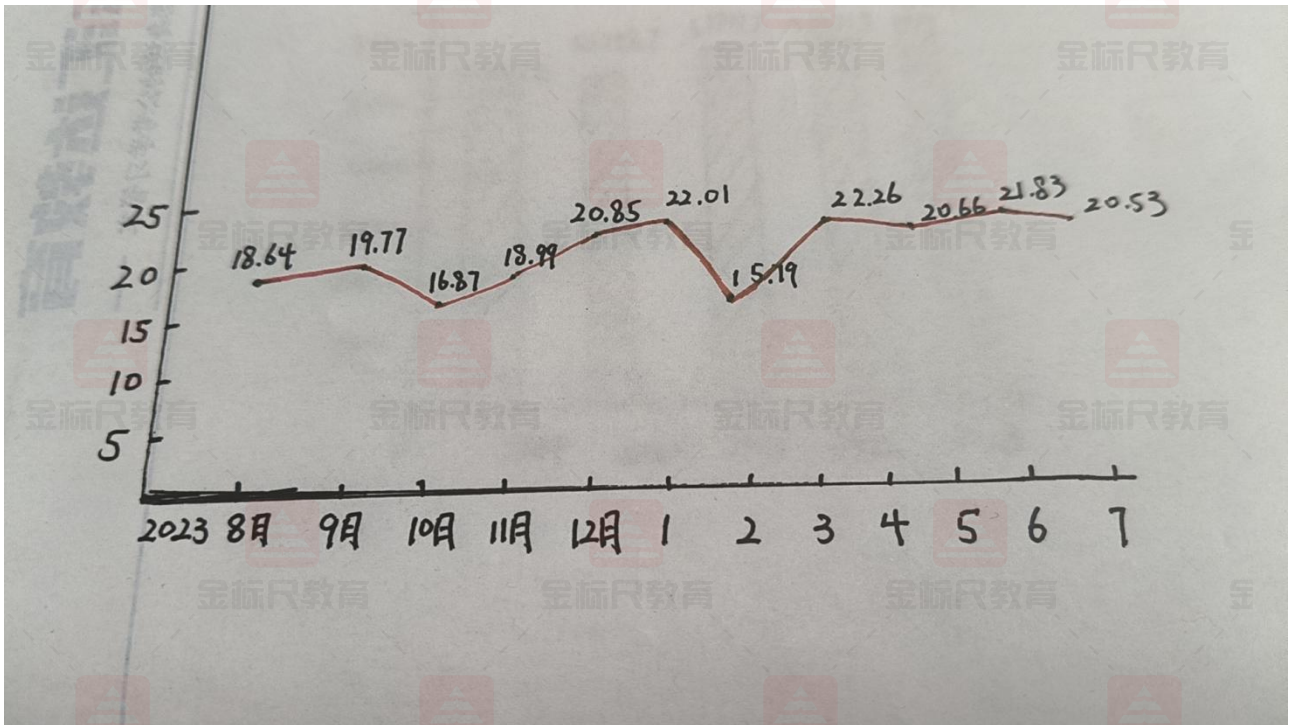
B.2021-2023 年,中国火力发电量年均产量超过 56000 亿千瓦时

C.2023 年中国火力发电量年产量较 2021 年增长超过 8%

D.2020-2023 年中国火力发电量.....

材料

2024年7月中国医药采集药品进口数量为3.67万吨。同比增长4.8%，进口金额为43.7亿美元，同比增长6.7%，2024年7月中国际药材及药品出口量为13万吨，2024年1~7月中医医药材及药品进口数量为22.72万吨，进口金额为3301.2亿美元。出口数量为90万吨。出口金额为143.68亿美元。



91.2024年7月中国药材及药品进出口金额贸易逆差同比增速约为 ()

- A.3.7%
- B.4.7%
- C.5.7%
- 6.7%

92.2023年7月中国药材及药品出口数量比进口数量高约 () 万吨

- A.8.26
- B.9.26

C.10.26

D.11.26

93.2024 年 6 月中国药材及药品出口金额环比增长 ()

A.3%-4%

B.4%-5%

C.5%-6%

D.6%-7%

94. 2024 年 6 月中国医药采集药品出口金额环比增长 () ?

A.3%-4%

B.4%-5%

C.5%-6%

D.6%-7%

95.根据以上资料，下面说法正确的是 ()

A.2023 年第四季度中国药材及药品出口累计金额较上季度增长约 1.3%

B.2023 年下半年中国药材及药品月均出口金额超过 19 亿美元

C.2023 年 9-12 月份中国药材及药品出口金额环比增速超过 10%的月份有 2 个

D.2024 年上半年中国药材及药品月均出口金额低于 20 亿美元

96-100 题

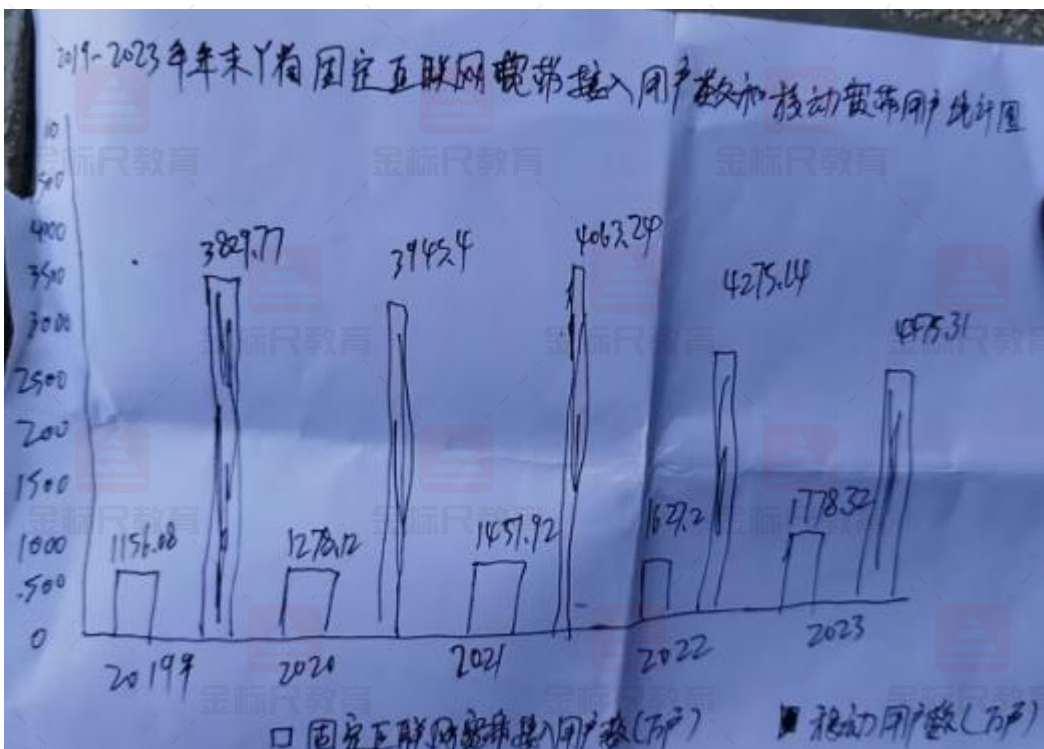
2023 年全年 Y 省货物运输总量 15.32 亿吨,比上年下降 1.0%,货物运输周转量 2026.75

亿吨公里, 增长 4.0%(货物运输周转量=货物汽输总量 x 货物平均流输距度)

2023 年年末 Y 省民用汽车保有量 957.23 万辆(包括三轮车和低速货车 1.04 万辆,比上年末增长 5.1%,其中个人汽车保有量 887.01 万辆,增长 5.0%,民用轿车保有量 422.94, 增比 6.5%,其中个人轿车保有量 402.56 万辆,增长 6.2%万辆)

2023 年全年 Y 省完成邮政行业寄送业务总量 15.95 亿件、比上年增长 13.1%。邮政完成邮政函件业务 644.68 万件,包裹业务 20.5 万件,快递 10.90 亿件,快递收入 114.02 亿元。电信业务总量 503.06 亿元,增长 13.2%新增移动电话用户 43.10 万户,年末达到了 5175.48 万户,其中 4G 移动电话用户 2182.76 万户,5G 移动用户 2396.88 万户年末全省固定及移动电话用户总数 5422.66 万户,比上年本增加 30.55 万户,固定电话普及率 5.27 部/百人,移动电话普及率 110.33 部/百人,固定互联网宽带接入用户 1778.32 万户比上年增长 151.13 万户、移动互联网用户 4475.31 万户, (含无线上网用户和手机上网用户, 比上年增长 200.18 用户, 年末固定电话用户 247.17 用户)

2019-2023 年年末 Y 省固定互联网宽带接入用户数和移动宽带用户地计图



96.2022 年全年 Y 省公路货物平均运输距离约 () 公里。

A.99.15.

B.105.19.

C.119.15.

D.129.15

97.2022 上半年Y省铁路货物定输量比水运货物油输量多约 () 万吨

A.14472.94

B.14372.94

C.14272.94.

D.14172.94

98. 按照 2023 半年末同比增速计算、Y 省个人汽车保有量将在()年突破 1000 万辆。

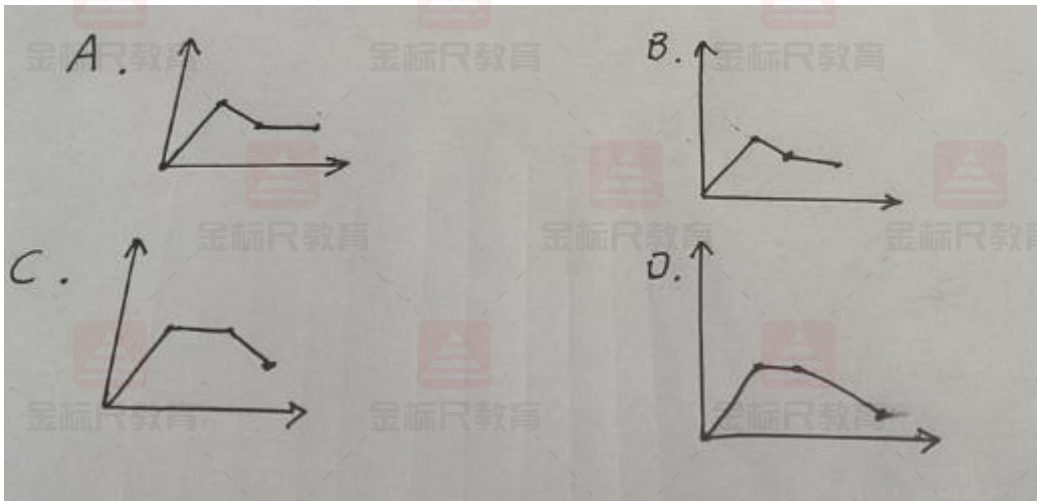
A.2024

B.2025

C.2026

D.2027

99.能反映 2020-2023 年 Y 省固定互联网宽带接入用户数同比增长率的折线图是()



100.根据以上资料,下面说法错误的是()

- A.2022-2023 年 Y 省年均完成邮政行业寄递量约为 15.03 亿件
- B.2020-2023 年 Y 省移幼宽带用户数同比增速最慢的年份 2021 年
- C.2019-2023 年 Y 省固互联网赛布接入用户数年均增址比 2019-2023 年 Y 省移幼宽用户数年均增速高约 7.4 个百分点
- D.2019-2023 年 y 省年均移动宽带用户数比 2019-2023 年 y 省年均固定互联网宽带接入用户数多约 2759.44 万户

材料五:

2024 年 10 月 14 日,记者从 A 市文化馆获悉,A 市文化馆 2024 年秋季公益培训班报名通道即将开启此次培训班旨在丰富市民精神文化生活,提升城市文化品位,为广大文化艺术爱好者搭建一个学习、交流、展示的平台。

据了解、本次培训班邀请了专业的师资队伍,以免费的形式向公众开放,为市民提供干净、整洁,舒适的学习环境,让每一位学员都能有这是安心学习,尽情发挥。

培训班不仅涵善了音乐,舞蹈,书法,美术等传统艺术课程、还增设了众多新颖独特的课程项目以满足不同年龄段,不同兴趣爱好的市民需求,在常规培训班课程中,音乐述课程尤为

引人注目,喜欢乐器的市民可以根据自己的喜好选择葫芦丝、手鼓、古筝等热门项目进行学习,书法课程则开设了软笔和硬笔两类,软笔书法专成人学员开设硬笔书法则更适合青少年学员、此外艺术类课程包括油画、国画、声乐合唱多个项目.学员们可以在这里尽情挥洒艺术才华、感受艺术魅力,不仅如此为了丰富学员们的文化体验,本次培训班还特别安排了,"古风书"课程,紧跟国风热潮.带领学员们关注传统文化、学习古代礼仪、服饰穿戴等。

据了解,除了常设培训班课程外,还特设A市群文大讲堂,读讲堂将于11月下旬开课.课堂内容聚焦"A市特色文化",旨在让市民更加深入了解A市文化的独特魅力和深厚底蕴,增强文化自信。

"相较于之前开设的公益培训班,本次秋季开班在保证原有精品课程的基础上,对课程设置与安排进行了优化与升级"A市文化馆的相关负责人向记者介绍,之前长期开设公益班,不仅吸引了大量市民积极报名、还收获了广泛的社会好评.基于此前开班的成功经验与积累,本次公益班旨在让市民朋友在紧张的工作之余,能够进一步沉浸于艺术的熏陶之中,享受生活的美好,提升个人品味、追寻心中的、"练和远方"

"我在上期班报了古筝班,通过一段时间学习、对传统乐器越来越感兴趣了。不仅提高了自己的艺术修养,还结交了许多志同道合的朋友,她觉得这样的课堂很有意义,秋季班还想继续参加。

"我上过声乐课、文化馆的专业老师从发声技巧,气息控制等方面进行了系统教学、帮助我们正确掌握歌唱方法,提升演唱水平。

值得一提的是,本次培训班所有课程均属于公益性质、无需缴纳任何费用,热爱艺术,身体健康的市民均可报名参加,需要注意的是,为了保证教学质量和学员的学习效果,培训班不允许学员自行调班,带班,顶替上课,,也不允许学员私自将学习名额转让他人,同时,所有课程每人限报一门,数量有限,先报先得,报满截止。

A市文化馆相关负责人指出,本次秋季公益培训班是文化馆积极响应国家号召,大力推进全民艺术普及的一项重要举措。希望通过此次培训班的举办。能够点燃市民对文化的热情

激发他们的美的追求。为 A 市文化艺术事业增添新的活力与动能。A 市文化馆常态化开设的全民文化艺术普及公益培训班。致力于构建以免费开放为核心的文化艺术普及培训班体系,为市民提供一个高品质的文化核心和艺术交流学习平台,致力于将便捷的便民服务送到群众身边,让大家在互动中深切感受艺术与文化的独特魅力,共享艺术与文化带来的愉快体验。

3.A 市文化馆即将开启 2024 年秋季公益辅导班的报名通道,请根据材料五,撰写一份公益培训班的宣传计划。(40 分)

要求:主题明确、格式正确、字数 400 字左右。

参考答案:

A 市文化馆 2024 年秋季公益培训班宣传计划

为了响应国家号召,大力推进全民艺术普及,点燃市民对文化的热情激发他们对美的追求,为 A 市文化艺术事业增添新的活力与动能,特针对 A 市文化馆 2024 年秋季公益培训班制定如下宣传计划:

一、宣传主题:“艺术普及,共享文化——A 市文化馆 2024 年秋季公益培训班”

二、宣传目标:旨在丰富市民精神文化生活,提升城市文化品位,为广大文化艺术爱好者搭建一个学习、交流、展示的平台。

三、宣传内容

课程介绍:涵盖音乐、舞蹈、书法、美术等传统艺术课程,及新颖独特的课程项目,满足不同年龄段、不同兴趣爱好的市民需求。

师资力量:邀请专业师资队伍,提供免费教学,确保教学质量。

教学环境:提供干净、整洁、舒适的学习环境,让学员安心学习。

特别课程:增设“古风书”课程,关注传统文化,学习古代礼仪、服饰穿戴等。

报名方式:热爱艺术、身体健康的市民均可报名参加,每人限报一门,先报先得,报满截止。

四、宣传方式

线上宣传:通过文化馆官网、社交媒体平台发布宣传信息。

线下宣传:在社区、学校、公共场所张贴宣传海报,发放宣传单页。

合作宣传:与当地媒体合作,进行新闻报道、广告投放。

五、宣传时间:即日起至报名通道关闭前,持续进行宣传。

4.近期，A市文化馆举办一场大型文化活动预计参与人数将超过1000人，请根据上述材料，撰写一份活动应急预案。(60分)

要求:预案全面、操作性强、字数不超过800字。

A市文化馆大型文化活动应急预案

为确保A市文化馆即将举办的大型文化活动(预计参与人数超1000人)顺利进行，有效应对可能发生的突发事件，特制定本应急预案。

一、组织机构与职责

应急指挥部：由文化馆馆长任总指挥，负责全面领导和指挥应急工作。下设安全保障组、医疗救护组、疏散引导组、信息联络组。

安全保障组：负责活动现场的安全检查、秩序维护，预防和处理突发事件，确保人员安全。

医疗救护组：配备专业医护人员，设置临时医疗点，对突发疾病或受伤人员进行紧急救治。

疏散引导组：熟悉场地布局，负责在紧急情况下迅速、有序地引导人员疏散。

信息联络组：负责信息传递、沟通协调，确保应急指令及时传达。

二、应急措施

安全检查：活动前进行全面安全检查，包括消防设施、电力供应、场地布局等，确保无安全隐患。

人员分流：根据场地容量，合理设置入口、出口，通过预约、分时段入场等方式控制人流，避免拥挤。

医疗急救：现场配备急救药品、担架等医疗设备，确保医疗救护组能迅速响应。

紧急疏散：制定详细疏散路线图，设置明显疏散指示标志，确保在紧急情况下人员能迅速撤离。

信息传递：建立应急通讯网络，确保指挥部与各小组之间信息畅通，及时传达应急指令。

心理疏导：对于因突发事件受到惊吓或情绪波动的人员，提供心理疏导服务。

三、应急演练

在活动前组织一次全面的应急演练，检验应急预案的可行性和有效性，提高各小组之间的协同作战能力。

四、后期处理

事件调查：对突发事件进行调查分析，总结经验教训，完善应急预案。

善后工作：对受伤人员进行慰问和后续治疗，对受损设施进行修复。

信息发布：及时、准确地向公众发布事件处理情况，消除不良影响。

本应急预案旨在确保A市文化馆大型文化活动的顺利进行，保障参与人员的人身安全，维护社会稳定。各小组应严格按照预案要求，认真履行职责，确保应急工作的高效有序进行。